



# BATIKENT ŞEHİT DEMET SEZEN KIZ ANADOLU İMAM HATİP LİSESİ 2019-2020 EĞİTİM ÖĞRETİM YILI

**ADI - SOYADI:**

**T.C. KİMLİK NO:**

## 5. SINIFLAR GİRİŞ SINAVI

1. Bu sınav 2019-2020 Eğitim-Öğretim Yılı Batıkent Şehit Demet Sezen Kız Anadolu İmam Hatip Lisesi Ortaokul Kısımına yerleşecek öğrencilerin kavrama düzeylerini ölçmek amacıyla hazırlanan "GİRİŞ SINAVI"dır.
2. Sınav toplam 100 soru ve Türkçe, Matematik, Din Kültürü ve Ahlak Bilgisi, Fen Bilimleri ve Sosyal Bilgiler testlerinden oluşmaktadır. Her test 20 sorudan ibarettir.
3. Soruların cevaplarını Cevap Kağıdında ait olduğu sütuna işaretleyiniz.
4. Cevap Kağıdında, Adı-Soyadı, T.C. Kimlik Numarası ve Öğrenci No bölümlerini kodlamayı unutmayınız.





1. "Ağır" sözcüğü aşağıdakilerden hangisinde "dokunaklı, insanın gücüne giden, kırıcı" anlamıyla kullanılmıştır?

- A) Demir ağır bir madendir.
- B) Onu incitecek ağır bir söz söyleme.
- C) Ağır ağır çıkacaksın bu merdivenlerden.
- D) İşler ağır gidiyor.

3. Aşağıdaki cümlelerin hangisinde karşılaştırma yapılmıştır?

- A) Buğdaylar bu sene daha çok ürün verdi.
- B) Dosyası kaybolduğu için ağlıyordu.
- C) Düzenli çalışmak başarıya ulaştırır.
- D) Çocuklar bahçede kahvaltı yapıyor.

2. Aşağıda yazan cümlelerde altı çizili sözcüklerden hangisi mecaz anlamda kullanılmıştır?

- A) Karanlıkta ders çalışılmaz.
- B) Karanlık işlerle uğraştığını duydum.
- C) Karanlık çökünce herkes evine gitti.
- D) Arabayla yola geldiğinde karanlık basmıştı.

4. Aşağıdaki cümlelerde altı çizili sözlerden hangisi deyim değildir?

- A) Onu perişan halde görünce çim parçalandı.
- B) Araba fren yapınca yüreğim ağzıma geldi.
- C) Kaza yaptığını duyunca ödü koptu.
- D) Baş ağrısı hafife alınmamalı, doktora gidilmeli.





5. Aşağıdaki cümlelerin hangisinde kişileştirme yapılmıştır?

- A) Adam bahçedeki ağaçları suladı.
- B) Şarkılar, köy türkülerini selamladı.
- C) Neşet Ertaş'ın türkülerini dinledik.
- D) Bahçede çiçekler açsın, bülbüller ötsün.

8. 1. değerlendirmeliyiz.  
2. fırsatı  
3. kitap  
4. okumak  
5. her  
6. için

Numaralandırılmış sözcüklerle anlamlı ve kurallı bir cümle oluşturulduğunda sıralama aşağıdakilerden hangisi olur?

- A) 3 - 4 - 6 - 5 - 2 - 1
- B) 3 - 4 - 5 - 6 - 2 - 1
- C) 1 - 5 - 3 - 4 - 2 - 6
- D) 5 - 2 - 4 - 3 - 6 - 1

6. "Ayağını yorganına göre uzat." atasözünde aşağıdakilerden hangisi vurgulanmaktadır?

- A) Özlem
- B) Pişmanlık
- C) Tutumluluk
- D) Kızgınlık

9. Aşağıdaki cümlelerden hangisinin sonuna üç nokta (...) konulmalıdır?

- A) Dinlenmek üzere biraz oturdum
- B) Sabahleyin treni kaçırdım
- C) Evden çıkarken yanınıza su alın
- D) Pazarda elmalar, portakallar

7. "Reşat Nuri Güntekin'in romanları ..."

Bu söz aşağıdakilerden hangisiyle tamamlanırsa öznel anlatım söz konusu olur?

- A) öğrencilerim tarafından okundu.
- B) sinemaya uyarlandı.
- C) herkes tarafından beğenildi.
- D) kütüphanede sergilendi.





10. Aşağıdaki cümlelerdeki altı çizili sözcüklerden hangisi sesteş değildir?

- A) Trenle gitme, otobüse bin.
- B) Türkler misafir ağırlamayı sever.
- C) Soğuk çay içmeyi sevmiyor
- D) Fırtınada ağacın dalı kırıldı.

13. Aşağıdakilerden hangisinde altı çizili sözcük aldığı ek nedeniyle yeni bir anlam kazanmıştır?

- A) Kitaplar masanın üzerindeydi.
- B) Bu bayram köye gitmeyeceğiz.
- C) Simitçi bu sabah gelmedi.
- D) Çantasını okulda unutmuş.

11. Aşağıdaki cümlelerin hangisinde tahmin anlamı vardır?

- A) Gökyüzü bulutlu sanırım yağmur yağacak.
- B) Sabaha doğru yağmur başladı.
- C) Nüfus arttıkça trafik sorunu çözülemiyor.
- D) Bu ev için çok emek harcadım.

14. *İyi günler ağaçlar,  
İyi günler çiçekler.  
Güneş doğduğunda,  
Sizi görmek ne güzel!  
Hayatı sizinle yaşamak,  
Doya doya yaşamak,  
Ne güzel!*

Bu şiirin ana duygusu aşağıdakilerden hangisidir?

- A) Arkadaş özlemi
- B) Yaşama sevinci
- C) Yalnızlık
- D) Memleket sevgisi

12. Sevimli kuşlar, bir ilkbahar sabahı dere kenarında su içmek için bekliyordu.

Bu cümlede aşağıdaki sorulardan hangisinin cevabı yoktur?

- A) Nasıl?
- B) Ne zaman?
- C) Nerede?
- D) Niçin?





15. Kitap okuma alışkanlığı kolay kazanılabilecek bir alışkanlık değildir. Küçük yaşlarda büyüklerin yardımıyla kazanılması gereken bir alışkanlıktır. Bu alışkanlığın elde edilmesi ana okulunda başlar, ilkokul ve ortaokulda devam eder. Küçük yaşlarda okuma alışkanlığı kazanamamış birisini okumaya alıştırmak için yapabilecek fazla bir şey kalmamıştır.

**Bu metinde asıl anlatılmak istenen aşağıdakilerden hangisidir?**

- A) Okuma alışkanlığı kazanmak kolaydır.
- B) Okuma alışkanlığı çocukken kazanılır.
- C) Okuma alışkanlığı kazandırmak anne babaların görevidir.
- D) Okuma alışkanlığı ilerleyen yaşlarda devam eder.

16. Aşağıdaki cümlelerin hangisinde sebep-sonuç ilgisi vardır?

- A) Okuduğum şiiri annem beğendiği için çok sevinçliyim.
- B) Kardeşimi güldürmek için çok uğraştım.
- C) Çalışma masasının üstünde bir kitap vardı.
- D) Arkadaşına güzel bir kitap aldı.

17. Sıcak bir temmuz günüydü. Aydın Bey arabaya bindi. Biraz gittikten sonra arabayı durdurdu. Arabadan inince ön tekerleğin patladığını gördü. İşe yetişmek için ne yapacağını düşünmeye başladı.

**Bu parça, aşağıdaki metin türlerinden hangisinden alınmış olabilir?**

- A) Haber metni
- B) Fabl
- C) Hikaye
- D) Masal

18. Aşağıdakilerden hangisinde büyük harflerin kullanımıyla ilgili bir yanlışlık vardır?

- A) Ayşe hanım birazdan okula gelecek.
- B) Atatürk, 19 Mayıs 1919'da Samsun'a çıktı.
- C) Bilim insanları Güneş'te yeni lekeler olduğunu söyledi.
- D) Şairin "Arkadaşım" adlı şiirini okudun mu?





19. Ankaralı genç bir şair "Vatanım" adlı şiiriyle okuyucusunun dikkatini çekiyor. Şiiri sizin duygularınızı anlatmak için yazmış sanki. Vatanı için şehit olanları, vatan sevgisini, kahramanlıkları coşkulu bir biçimde ele alıyor. Tecrübesiz oluşuna rağmen herkes tarafından beğeniliyor.

**Bu metinde şair ve şiir ile ilgili aşağıdakilerden hangisine değinilmemiştir?**

- A) Şiirlerinde vatan sevgisini ele aldığına
- B) Okuyucusunun dikkatini çektiğine
- C) Şiirlerinde coşkulu bir dil kullandığına
- D) Deneyimli bir şair olduğuna

20. (1) Eşyalarımızı topladık ve yeni evimize taşıdık.  
 (2) Yeni evimizin manzarası çok güzeldi.  
 (3) Komşularımız hatırımızı sordukça heyecanımız arttı.  
 (4) Yeni evimizde eşyalarımız bizi güler yüzle karşıladı.

**Yukarıdaki numaralandırılmış cümlelerden hangisinde hayali bir öge vardır?**

- A) (1)                      B) (2)
- C) (3)                      D) (4)





1. Aşağıda verilen çarpma işlemlerinden hangisinde sonucun rakamları toplamı 9'dur?

- A)  $61 \times 16$   
 B)  $60 \times 17$   
 C)  $59 \times 18$   
 D)  $58 \times 19$

3.

$$\begin{array}{r} 4369 \\ + 8 \bullet 4 \star \\ \hline \blacktriangle \blacktriangledown 3 \blacksquare 5 \end{array}$$

Yukarıdaki toplama işlemine göre

$\blacktriangle + \blacktriangledown + \bullet + \blacksquare + \star$  kaçtır?

- A) 11  
 B) 14  
 C) 17  
 D) 20

2. Aşağıdaki bölme işlemlerinden hangisi kalansızdır?

- A)  $338 \overline{) 28}$   
 B)  $644 \overline{) 28}$   
 C)  $950 \overline{) 28}$   
 D)  $982 \overline{) 28}$

4. 1, 4, 7 ve 0 rakamları kullanılarak yazılabilecek üç basamaklı rakamları farklı en büyük doğal sayı ile üç basamaklı rakamları farklı en küçük doğal sayının farkı kaçtır?

- A) 571  
 B) 594  
 C) 601  
 D) 637









5.


15




27



33



?



Kutular içindeki şekiller ile verilen sayılar arasında bir ilişki vardır.

Yukarıda verilenlere göre soru işareti yerine hangi sayı yazılmalıdır?

- A) 9                      B) 8  
C) 7                      D) 6




6. Şehit Demet Sezen Kız Anadolu İmam Hatip Lisesi'nde dersler 08.30'da başlar. 4 ders yapıldıktan sonra öğle arasına girilir. Her iki ders arasında teneffüs yapılır.

Milli Eğitim Bakanlığı'nın yayınladığı yeni yönetmeliğe göre dersler 40 dakika, teneffüsler 15 dakika olacaktır.

Buna göre öğle arasına saat kaçta çıkılacaktır?

- A) 12.00                B) 11.55  
C) 11.50                D) 11.45

7.

Şişe Türü	Aldığı Su Miktarı	Bir Kolideki Şişe Sayısı
 BÜYÜK	5 L	4
 ORTA	1,5 L	8
 KÜÇÜK	330 mL	24

Yukarıda bir markette satılan suların şişe türleri ve bir kolideki şişe sayıları verilmiştir.

1 koli büyük şişe, 1 koli orta boy şişe, 1 koli de küçük boy şişe alan Sabri toplam kaç mililitre su almış olur?

- A) 39920                B) 39900  
C) 39880                D) 39860





8. Aynı büyüklükteki iki otobüsten birincisinin  $\frac{6}{8}$  'sı yolcu doluyken ikincisi boştur. Birinci otobüsteki yolcuların bazıları ikinci otobüse geçince ikinci otobüsün  $\frac{5}{8}$  'i doluyor. Buna göre son durumda birinci otobüsün kaçta kaçta boştur?

- A)  $\frac{1}{8}$                       B)  $\frac{2}{8}$   
C)  $\frac{5}{8}$                       D)  $\frac{7}{8}$

9.



Hülya

Bir sayı örüntüsü oluşturalım ve örüntüdeki ilk terim 11 olsun. Sayılar dokuzar artarak devam etsin.

Aşağıdaki sayılardan hangisi Hülya'nın ifade ettiği sayı örüntüsündeki sayılardan biri değildir?

- A) 101                      B) 38  
C) 65                      D) 82

10. Bir kurban pazarındaki 1453 tane koyunun 1. gün 358 tanesi, 2. gün 280 tanesi kesilmiştir.

Buna göre geriye kaç koyun kalmıştır?

- A) 825  
B) 815  
C) 805  
D) 795

11. Bir yemekhanede 2 sıra ve her sırada 40 öğrenci vardır.

Her öğrenci 3 tabak yemek yediğine göre yenilen toplam yemek miktarı kaç tabaktır?

- A) 180  
B) 200  
C) 240  
D) 270

12. Ayşe Hanım çalışma günlerinde eşit sürede çalışarak 4 haftada toplam 160 saat çalışmıştır.

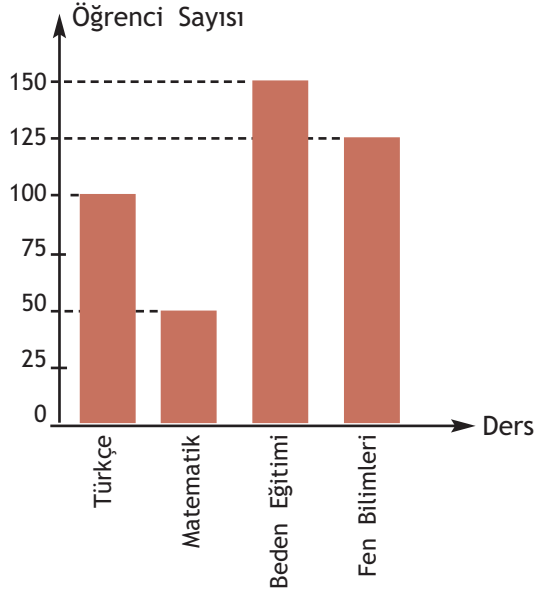
Ayşe Hanım hafta sonları çalışmadığına göre, günlük çalışma süresi kaç saattir?

- A) 4                      B) 6  
C) 8                      D) 10



13. Aşağıdaki grafik, bir okuldaki öğrencilerin en sevdikleri derslerin öğrenci sayısına göre dağılımını göstermektedir.

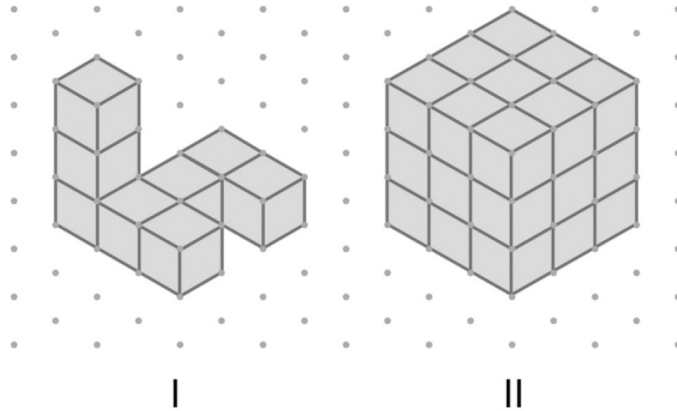
Grafik: Öğrencilerin En Sevdikleri Ders



Grafiğe göre aşağıdakilerden hangisi yanlıştır?

- A) En çok sevilen ders beden eğitimidir.  
 B) Matematiği seven öğrenciler, Türkçe'yi seven öğrencilerin yarısı kadardır.  
 C) Okuldaki toplam öğrenci sayısı 500'dür.  
 D) Fen bilimlerini seven öğrenci sayısı beden eğitimi seven öğrenci sayısından 25 eksiktir.

14.



I. yapı birim küplerle oluşturulmuştur.

I. yapıya kaç birim küp eklenirse küp şeklindeki II. yapı elde edilir?

- A) 19      B) 20      C) 21      D) 22



15. Bir duvar saatinde akrep ile yelkovan arasındaki açının dik açı olduğu bilindiğine göre saat kaç olabilir?

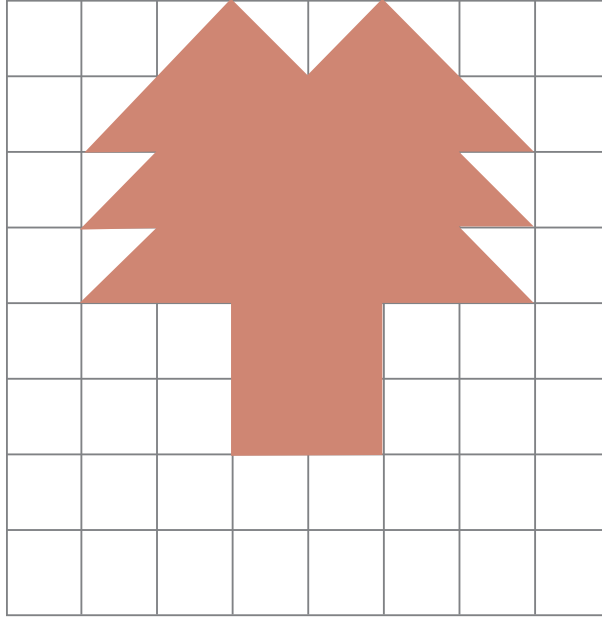
- A) 12.00      B) 09.00  
C) 06.00      D) 01.00

16. Uzun kenarının uzunluğu 20 cm olan bir dikdörtgenin çevre uzunluğu 60 cm'dir. Bir kenarının uzunluğu bu dikdörtgenin kısa kenarının uzunluğuna eşit olan bir kare çiziliyor.

Çizilen karenin çevre uzunluğu kaç santimetredir?

- A) 60      B) 50  
C) 40      D) 30

17.



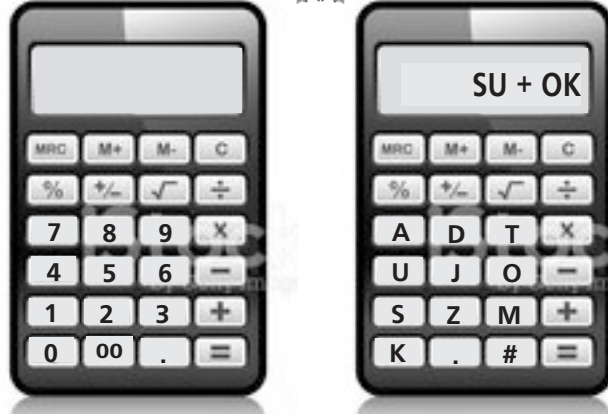
Yukarıdaki kareli kağıtta bir küçük karesel bölgenin alanı 1 birimkaredir. Verilen şekilde yarım ve tam kareler boyanmıştır.

Kaç yarım karenin boyası silinirse boyalı bölgenin alanı 18 birimkare olur?

- A) 8      B) 6      C) 4      D) 3



18.



Yukarıdaki hesap makinesindeki rakamların yerine harfler yerleştirildiğinde ekrandaki işlemin sonucu aşağıdakilerden hangisi olur?

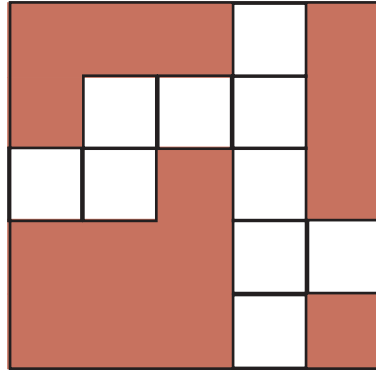
A) AU

B) DJ

C) MO

D) AS

19. Yandaki şekli tamamlayan şekil hangisidir?



A)



B)



C)

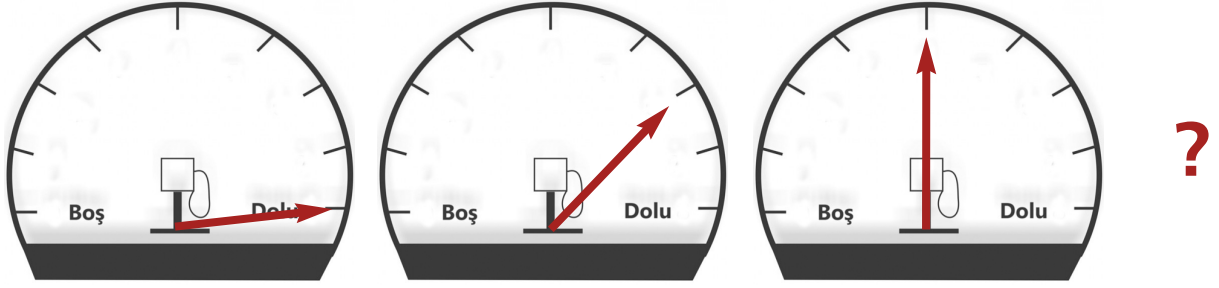


D)





20.

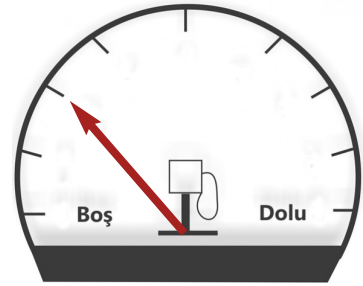


Yukarıdaki benzin göstergeleri belirli bir kurala göre dizilmiştir. Soru işareti yerine aşağıdakilerden hangisi gelmelidir?

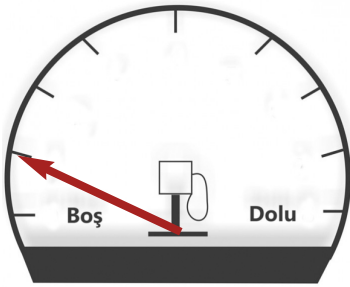
A)



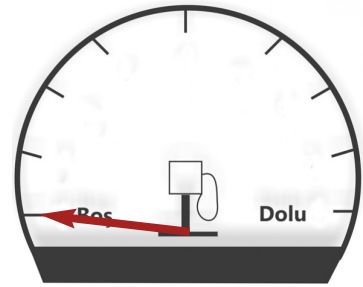
B)



C)



D)



1. Aşağıdakilerden hangisi İslam'ın şartları (farzları) arasında olan bir ibadettir?

- A) Aşure günü orucu tutmak
- B) Öğle namazı kılmak
- C) Teravih namazı kılmak
- D) Ramazan ayında fitre vermek

2. Peygamberimiz Hz. Hatice ile yirmi beş yıl süren mutlu bir evlilik yaşamıştır. Bu evliliğinden dördü kız ikisi erkek olmak üzere altı çocuğu olmuştur.

Aşağıdakilerden hangisi Peygamberimizin çocuklarından biri değildir?

- A) Zeyd
- B) Zeynep
- C) Ümmü Gülsüm
- D) Abdullah

3. "Eğer yerde ve gökte Allah'tan başka ilahlar olsaydı, kesinlikle ikisinin de düzeni bozulurdu..."

(Enbiya süresi, 22. ayet)

Bu ayet İslam'ın inanç esaslarından hangisi ile ilgilidir?

- A) Allah'a iman
- B) Peygamberlere iman
- C) Meleklerle iman
- D) Kitaplara iman

4.

"Küçüklerine merhamet etmeyen, büyüklere saygı göstermeyen bizden değildir."

(Hadis-i Şerif)

Aşağıdakilerden hangisi bu hadise uygun bir davranış değildir?

- A) Otobüste ayaktaki yaşlılara yer vermek
- B) Bayramlarda büyüklerimizi ziyaret edip ellerini öpmek
- C) Düşüp yaralanan bir çocuğa yardım edip, sevgi göstermek
- D) Bizi rahatsız eden kardeşimize kaba ve kırıcı sözler söylemek

5.

Birbirini yürekten,  
Sevmeli arkadaşlar.  
Şuna inanırım ki,  
Her şey sevmekle başlar.

Ahmet Mahir Pekşen

Bu şiirin verdiği mesajla aşağıdaki hadislerden hangisinin mesajı benzerdir?

- A) "Doğruluktan ayrılmayınız. Doğruluk iyiliğe, iyilik de cennete götürür."
- B) "Sizin en hayırlınız ahlakı en güzel olanınızdır."
- C) "İman etmedikçe cennete giremezsiniz, birbirinizi sevmedikçe de (gerçek anlamda) iman etmiş olamazsınız."
- D) Allah'a ve ahiret gününe iman eden kimse komşusunu rahatsız etmesin."



6. Peygamberimiz Mekke'de doğmuş hayatının büyük bir kısmını Mekke'de geçirmiştir. Mekke'den başka bir de Medine'de yaşamıştır. Peygamberliğinden sonra vefatına kadar on yıl bu şehirde hayatını devam ettirmiştir. Yaşamı Mekke'de başlamış, Medine'de sona ermiştir.

**Peygamberimizin Mekke şehrinden Medine şehrine gidişine tarihte ne ad verilir?**

- A) Muhacir
- B) Hicret
- C) Ensar
- D) Miraç

7. Dinimiz bazı davranışları yasaklamıştır. Hırsızlık yapmak, hayvanlara eziyet etmek, iftira etmek, dedikodu yapmak, yalan söylemek bunlardan bazılarıdır.

**Allah'ın kesin olarak yasakladığı ve yapılmasını istemediği bu davranışlar dinimizde aşağıdaki kavramlardan hangisi ile ifade edilir?**

- A) Haram
- B) Helal
- C) Sevap
- D) Farz

8. Peygamberimizin peygamberliği aşağıdaki yıllardan hangileri arasında gerçekleşmiştir?

- A) 571 - 632
- B) 622 - 632
- C) 610 - 622
- D) 610 - 632

9.



**ifadesi aşağıdaki dini kavramlardan hangisine aittir?**

- A) Salavat
- B) Kelime-i şهادet
- C) Kelime-i tevhid
- D) Besmele

10. ● Farz bir ibadettir.  
● İmsak, iftar, sahur kavramları bu ibadetle ilgili kavramlardır.  
● Hicri aylardan ramazan ayında yapılır.

**Yukarıda özellikleri verilen, ibadet hangisidir?**

- A) Namaz
- B) Oruç
- C) Hac
- D) Zekat







11. Temizlik deyince aklımıza sadece beden, giysi ve çevre temizliği gelmemelidir. Bunlar temizliğin maddi yönüdür. Temizliğin bir de manevi yönü vardır. İç temizliği, kalp temizliği, davranışlarımızın güzel olması da manevi temizliğin göstergesidir.

Bu açıklamalara göre aşağıdaki hadislerden hangisi manevi temizlikle ilgilidir?

- A) "Misvak (diş fırçası) kullanın. Çünkü misvak ağız temizler. Ağız temizlemek de Allah'ı hoşnut eder."
- B) "Saçı olan ona iyi baksın, özen göstereyin."
- C) "İnsan, bir günah işlediğinde kalbinde kara bir leke oluşur. Eğer günahı vazgeçip Allah'tan af dilerse kalbi temizlenir."
- D) "Her yedi günde bir saçını ve bedenini yıkayarak banyo yapması, Allah'ın bütün Müslümanlar üzerindeki bir hakkıdır."

12. Peygamberimizin doğduğu gece ülkemizde kandil gecesi olarak kutlanır.

"Doğum, doğum zamanı" anlamına gelen bu kandil aşağıdakilerden hangisidir?

- A) Mevlid kandili  
B) Berat kandili  
C) Kadir gecesi  
D) Miraç kandili



13. (I) Kur'an-ı Kerim Hz. Muhammed'e gönderilmiştir. (II) Bir kısmı Mekke'de bir kısmı Medine'de inmiştir. (III) Peygamberimizin ölümünden sonra tamamlanmıştır. (IV) Allah tarafından gönderilen son ilahi kitaptır.

Kur'an-ı Kerim ile ilgili kaç numaralı cümle yanlıştır?

- A) I                      B) II  
C) III                    D) IV

- 14.



Bu hadis aşağıdaki güzel ahlak davranışlarından hangisi ile ilişkilendirilebilir?

- A) Çalışmak  
B) Yardımlaşmak  
C) Anne babaya iyi davranmak  
D) Merhametli olmak



15. Peygamberimiz bütün çocukları çok severdi. Kendi çocukları ve torunlarına değer verdiği gibi diğer çocuklara da değer verirdi. Peygamberimizin çocuk sevgisiyle ilgili pek çok örnek vardır. Bir defasında çocukların yarış yaptığını görünce o da yarışa katılmış, neşelerine ortak olmuştur. Kuşu ölen Zeyd'e başsağlığı için gitmiştir. Cemaatle namaz kıldırırken çocuk ağlaması duyduğunda namazı kısa tutmuştur. Müslüman olmayan bir komşusunun çocuğu hastalandığında da onu ziyaret etmişti.

**Bu metinde Hz. Peygamber ile ilgili aşağıdakilerden hangisine ulaşamaz?**

- A) Çocuklara karşı şefkatli olduğu
- B) Çocuklarla oyun oynayarak eğlencelerine ortak olduğu
- C) Çocukların üzülmesine ve ağlamasına dayanamadığı
- D) Çocuklar içerisinde en çok kendi çocuklarına ve torunlarına değer verdiği.

16. Günlük konuşmalarımızda birçok dini ifade ve kavram kullanırız. Dini-mizde çok kullanılan, önem verilen ifadeler dilimize yerleşmiştir.

**Aşağıdaki cümlelerden hangisinde dini bir ifade yoktur?**

- A) Benim annem melek gibi bir insan.
- B) Okulumu, öğretmenimi çok seviyorum.
- C) Maşallah, ne kadar güzel gözlerin var.
- D) Bugün de dersime bismillah diyerek başladım.

17. Aşağıdaki olaylardan hangisi Peygamberimizin Medine döneminde yaşamıştır?

- A) Peygamberimizin annesinin ölümü
- B) Peygamberimize ilk vahyin gelişi
- C) Peygamberimizin doğumu
- D) Peygamber mescidi (Mescid-i Nebi)'nin yapımı.





18. Aşağıdakilerden hangisi **günah** olan davranışlardandır?

- A) Yolda yürürken başkalarına zarar vereceği düşünülen şeyleri yoldan kaldırmak.
- B) Çalışkan, başarılı ve iyi ahlaklı olan arkadaşının güzel özelliklerini başkalarına anlatarak arkasından konuşmak.
- C) Pazarda satış yaparken tezgahın ön tarafına iyi, arka tarafına kötü mal koyarak hileli satış yapmak.
- D) Sokakta gördüğü yaşlı komşusunun elindeki poşetleri alarak evine taşımak, ona yardım etmek.

19. Aşağıdakilerden hangisi dilek ve dualarda kullanılan dini ifadelere örnek **değildir**?

- A) Ablam yemek yapınca hepimiz ona "Eline sağlık" dedik.
- B) Otobüste yer verdiğim teyze bana "Allah razı olsun yavrucum" dedi.
- C) Bu gün inşallah tatil için yola çıkacağız.
- D) En yakın arkadaşım ve ailesi kaza yaptılar, elhamdülillah hepsi de çok iyiymiş.

20. Peygamberimiz bir gün mescitteyken içeriye saç sakalı birbirine karışmış bir kişi girer. Peygamberimiz adamın dışarı çıkıp kendine çeki düzen vermesi için eliyle ona işaret eder. Adam dışarı çıkıp saçını ve sakallarını düzelttikten sonra tekrar mescide girer. Peygamberimiz "Sizden birinin saç başı dağınık gelmesinden, böylesi daha iyi değil mi?" buyurur.

Aşağıdakilerden hangisi bu olaydan çıkarılacak bir mesajdır?

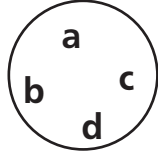
- A) Kalp temizliğine beden temizliğinden daha fazla önem vermeliyiz.
- B) Öz bakımımıza, görünümümüze dikkat etmeli, temiz olmalıyız.
- C) Her zaman değil, sadece önemli görüşmelere gittiğimizde temizliğimize dikkat etmeliyiz.
- D) İnsanların dış görünüşüne göre karar vermemeli, davranışlarının güzelliğine bakmalıyız.



1.



Güneş



Dünya

Yukarıdaki şekle göre, hangi harflerin olduğu yerlerde gece yaşanmaktadır?

- A) a - b      B) c - d  
C) b - c      D) a - d

2.



Can

Termik santrallerde ve demir çelik fabrikalarında enerji üretiminde kullanılır.

Can'ın bahsettiği maden aşağıdakilerden hangisidir?

- A) Mermer  
B) Gümüş  
C) Altın  
D) Taş kömürü

3. İnsan vücudunun içerisinde en fazla bulunan madde aşağıdakilerden hangisidir?

- A) Su      B) Yağ  
C) Mineral      D) Vitamin

4.

1. Karaciğer kanserine ve siroz hastalığına sebep olur.

2. Ağız kokusu yapar, diş ve diş eti hastalıklarına yol açar.

3. Akciğer ve gırtlak kanseriyle, kalp ve damar hastalıklarına sebep olur.

4. Konuşma, yürüme ve denge sorunlarıyla unutkanlığa sebep olur.

Yukarıdaki tabloda numaralandırılarak verilen alkol ve sigaranın zararları aşağıdakilerin hangisinde doğru olarak eşleştirilmiştir?

Alkol	Sigara
A) 1, 2	3, 4
B) 1, 4	2, 3
C) 2, 3	1, 4
D) 3, 4	1, 2

5.



I

(Ders çalışmak)



II

(Teleskopla gökyüzüne bakmak)



III

(Futbol oynamak)



IV

(Uyumak)

Yukarıdaki resimlerde Ali'nin gün içinde yaptığı farklı aktiviteler gösterilmektedir.

Bu aktivitelerin hangisinden sonra Ali'nin karbonhidrat ve yağ bakımından zengin besinleri tüketmesi daha uygun olur?

- A) I.      B) II.  
C) III.      D) IV.




6. Dünya Sağlık Örgütü tarafından sağlığı bozacak ölçüde vücutta yağ birikmesi olarak tanımlanan sağlık sorununa..... adı verilir.

Cümedeki boşluğa aşağıdakilerden hangisi gelmelidir?

- A) Yüksek tansiyon      B) Diyabet  
C) Kanser                      D) Obezite

7. Aşağıdakilerden hangisi protein bakımından zengin bir besin değildir?




Kurufasulye



Peynir



Et



Çilek

8. I. Durum N S  
II. Durum S S

Yukarıdaki iki durumda mıknatısların birbirlerine etkileri nasıl olur?

- |          |       |
|----------|-------|
| I        | II    |
| A) Çeker | İter  |
| B) Çeker | Çeker |
| C) İter  | Çeker |
| D) İter  | İter  |

9. Bir masanın üzerinde porselen tabak, çelik bıçak, cam bardak ve alüminyum tencere bulunmaktadır.

Buna göre, mıknatıs bu cisimlerden hangisini çeker?

- A) Porselen tabak  
B) Çelik bıçak  
C) Cam bardak  
D) Alüminyum tencere

- 10.



Aynı yönde aynı sabit hızlarla hareket eden şekildeki K, L, M cisimlerine farklı kuvvetler uygulandığında cisimlerdeki hareket değişimleri şekildeki gibi oluyor.

Buna göre cisimlere uygulanan kuvvetlerin hareket yönleri seçeneklerden hangisindeki gibidir?

- |      |   |   |   |
|------|---|---|---|
|      | K | L | M |
| A) → | ← | → | → |
| B) → | ← | ← | ← |
| C) ← | ← | → | → |
| D) ← | → | → | → |

11. I. Çelik çatal  
II. Tahta parçası  
III. Cam bilye  
IV. Plastik tabak

Yukarıdakilerden hangileri suda yüzmeye özelliği gösterir?

- A) II-IV                      B) II-III  
C) I-III                      D) III-IV

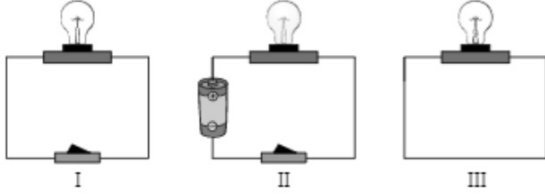




12. Aşağıdaki maddelerden hangisinin kütlesi diğerlerinden daha fazladır?

- A) 3 kilogram yün
- B) 250 gram çay
- C) 5 kilogram pamuk
- D) 1000 gram demir

13.



Aslı kurduğu I, II ve III numaralı devrelerden yalnızca II numaralı devredeki ampulün ışık verdiğini görüyor.

Buna göre Aslı, aşağıdakilerden hangisine ulaşır?

- A) Devrede anahtar olmasa da ampul ışık verebilir.
- B) Pil, devreye enerji vererek ampulün yanmasını sağlar.
- C) Ampulün yanması için uygun büyüklükteki piller kullanılmalıdır.
- D) Kurulan her devre aynı tür pille çalışabilir.

14. ● Belirli bir şekilleri yoktur.  
● Buldukları kabın şeklini alırlar.  
● Sıkıştırılabilirler.  
● Akıcıdırlar.

Yukarıda verilen özellikler aşağıdaki maddelerden hangisine ait olabilir?

- A) Silgi
- B) Buz
- C) Oksijen
- D) Taş

15. Suyu tasarruflu kullanma konusunda bilinçli olan Zeynep Hanım evinde aşağıdakilerden hangisini yapmamıştır?

- A) Su damlatan muslukları tamir ettirmiştir.
- B) Sebze ve meyveleri yıkarken çok fazla su kullanmıştır.
- C) Yumurta haşladığı suyu çiçekleri sulamada kullanmıştır.
- D) Makarna haşladığı suyu çorba yapmada kullanmıştır.

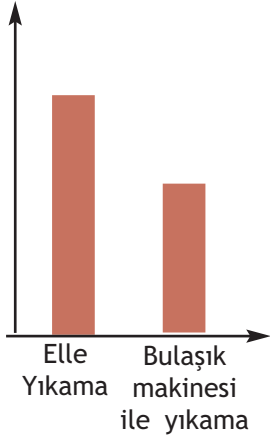
16. Bir dereceli silindir, su ile tamamen doludur. Bu dereceli silindirin içine bir adet taş atılmış ve bir miktar su taşmıştır.

Buna göre, taşın suyun hacmi aşağıdakilerden hangisine eşittir?

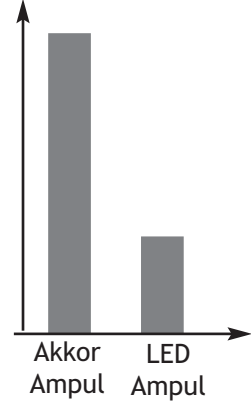
- A) Taşın hacmi
- B) Kaptaki suyun hacmi
- C) Kaptaki suyun kütlesi
- D) Taşın kütlesi



17. Harcanan su miktarı



Harcanan elektrik enerjisi miktarı



Yukarıdaki grafiklere göre aşağıdaki ifadelerden hangisi yanlıştır?

- A) Bulaşıkları elde yıkamak için harcanan su, makinede yıkamak için harcanandan fazladır.
- B) Akkor ampul, LED ampulden fazla elektrik harcar.
- C) Elektriği tasarruflu kullanabilmek için akkor ampuller yerine led ampuller tercih edilmelidir.
- D) Suyu tasarruflu kullanabilmek için bulaşıkları elle yıkamak gerekir.

18. Aşağıdaki çocuklardan hangisinin davranışı yanlıştır?

A)



Ali

Ellerimi sabunlar-ken suyun boşa ak-maması için muslu-ğu kapatırım.

B)



Taha

Duş alma süremi mümkün olduğun-ca kısa tutmaya ça-lışırım.

C)



Zeynep

Yiyemeyecek de ol-sam tüm yemekler-den tabağıma alı-rım.

D)



Nehir

Bilgisayar kullanma-dığım zaman bek-leme durumunda bırakmam, tama-men kapatır ve fişi-ni çekerim.



19.



İlk insanlar güneş ile aydınlanmaktaydı. Fakat güneş battığında karanlıkla baş başa kalıyorlardı.



Zaman içinde insanlar taşları birbirine sürterek ateş yakmayı öğrendiler ve ateş ile aydınlandılar.



Reçine ve odun parçaları ile meşale yakmayı bulan insanlar böylelikle ışık kaynağını bir yerden bir yere taşıyabildiler.

Derya Öğretmen, yukarıda verilen bilgileri tahtaya yapııştırıyor ve öğrencilerinden ışık kaynaklarının gelişimi ile ilgili yorum yapmalarını istiyor.



Bora

İnsanlar çok eski zamanlardan bu yana aydınlatma için çeşitli alet ve teknikler geliştirmişlerdir.



Ahmet

Bulunan aydınlatma araçları daha kullanışlı olacak şekilde geliştirilmiştir.



Gizem

İnsanlar, bulunan bir ışık kaynağı ile idare etmiş ve yenilerini geliştirmek için çaba sarf etmemişlerdir.

Öğrencilerin yaptığı yorumlar yukarıda verildiğine göre hangi öğrencilerin yorumları doğrudur?

- A) Bora ve Ahmet
- B) Bora ve Gizem
- C) Ahmet ve Gizem
- D) Bora, Ahmet ve Gizem



20.



Kış aylarında araçların bakımları yapılmalı, araç sularının donmasını önlemek için su depolarına antifriz denen maddelerden eklenmelidir. Antifrizler araçlardaki motor suyunun daha düşük sıcaklıklarda sıvı kalmasını sağlar.

**Kış bakımını yaptırmayan Faruk Bey'in arabası, hava sıcaklığının  $0^{\circ}\text{C}$  nin altına düşmesiyle yolda kalmıştır. Bu olayla ilgili;**

- I. Araç motorunda bulunan su soğuyarak katı hale geçmiştir.
- II. Hava sıcaklığı artıp  $0^{\circ}\text{C}$  nin üstüne çıkarsa donmuş su tekrar sıvı hale geçer.
- III. Araca antifriz eklenmiş olsaydı bu sorun yaşanmazdı.

**İfadelerinden hangileri doğrudur?**

- A) Yalnız I                      B) I ve II                      C) II ve III                      D) I, II ve III

1.



I



II



III



IV

Bu fotoğrafları kronolojik olarak sıralamak isteyen Ahmet'in son fotoğrafı hangisi olmalıdır?

- A) I                      B) II  
C) III                     D) IV

2.



Sibel

Arkadaşım Gamze ile çok iyi anlaşıyoruz ama o balık yemeyi seviyor ben ise köfte yemeyi seviyorum

Sibel'in ifadesinden hareketle aşağıdakilerden hangisine ulaşılabilir?

- A) Sibel ve Gamze'nin zevkleri birbirinin aynısıdır.  
B) Sibel ve Gamze farklılıklara karşı saygılıdır.  
C) Sibel ve Gamze'nin yetenekleri farklıdır.  
D) Sibel ve Gamze'nin arkadaşlık yapması yanlıştır.

3.



Kimlik kartının gösterilen ön yüzünde aşağıdaki bilgilerden hangisi bulunmaz?

- A) Adı-soyadı  
B) Doğum tarihi  
C) Baba adı  
D) Cinsiyeti

4.



I



II



III



IV

Aile tarihini öğrenmek isteyen Zehra, sözlü tarih çalışması yaparken yukarıda verilenlerden hangisine ihtiyaç duymaz?

- A) I                      B) II  
C) III                     D) IV

5.



Ali Amca

Bizim zamanımızda şimdiki gibi oyunlar oynanmazdı. Biz oyunlarımızı sokakta bulduğumuz malzemelerle oynardık.

Buna göre aşağıdakilerden hangisi Ali Amca'nın, çocukluk döneminde oynadığı oyunlardan biri olabilir?

A)



B)



C)



D)



6.



Sütcü İmam



Ali Saip Bey

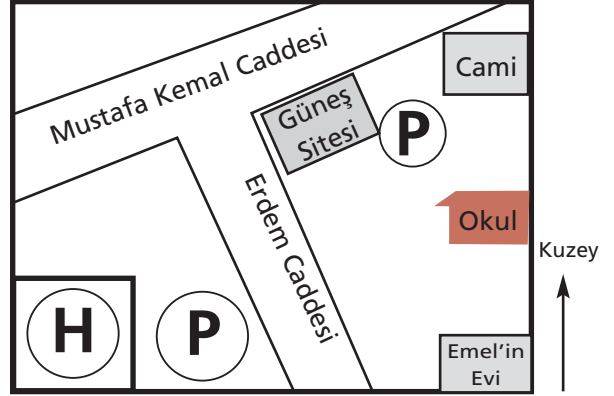
Resimdeki kahramanlarla ilgili;

- I. Kurtuluş Savaşı'nda başarı gösterdiklerine,
- II. Güney Cehesi'ni savunduklarına,
- III. Türk vatanını düşmana karşı koruduklarına,

verilenlerden hangileri söylenebilir?

- A) Yalnız I      B) I ve II  
C) II ve III      D) I, II ve III

7.



Emel'in çizdiği bu krokiden hareketle aşağıdakilerden hangisine ulaşamaz?

- A) Emel'in evi okulun güneyindedir.  
B) Çizilen krokide iki tane park vardır.  
C) Cami, hastanenin kuzey doğusundadır.  
D) Okul hastanenin batısındadır.

8.

- I. Kan basıncını ölçmeye yarayan bir cihazdır.
- II. Bilgileri depolamak amacıyla kullanılmaktadır.

Buna göre tanımı verilen teknolojik aletler sırasıyla aşağıdaki alanların hangisiyle ilişkilendirilebilir?

- A) İletişim - Ulaşım  
B) Sağlık - İletişim  
C) Ulaşım - İletişim  
D) Eğitim - Sağlık



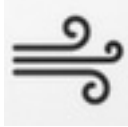









9.



Cem

Benim yaşadığım şehirde pazartesi günü hava güneşliydi. Ertesi gün şemsiye almadığım için sıırıslıklam oldum. Çarşamba günü ise hava çok rüzgarlıydı.

Cem'in verdiği bilgilerden hareketle yaşadığı şehrin ilk üç günlük hava gözlem grafiği aşağıdakilerden hangisi gibi olmalıdır?

- A)   
- B)   
- C)   
- D)   

10. İlk insanlar doğa şartlarından korunmak için ağaç kovuklarında yaşıyordu. Yiyecek ihtiyaçlarını avladıkları hayvanlardan gideriyorlardı. Yaşadıkları çevreye göre kıyafet ihtiyaçları değişiyordu.

Buna göre ilk insanların ihtiyaçları arasında aşağıdakilerden hangisi yoktur?

- A) Barınma      B) Giyim  
C) Eğitim      D) Beslenme

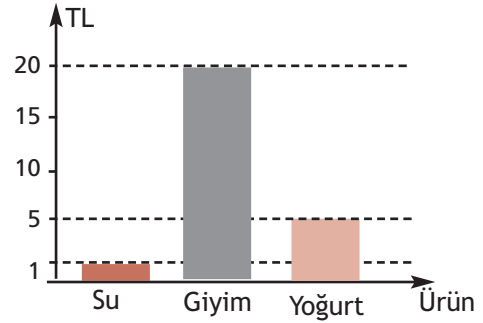
11.



Bu ve benzeri bir fiziki haritadan yararlanılarak aşağıdakilerden hangisine ulaşılabilir?

- A) Dağların isimlerine  
B) Yükseltinin en fazla olduğu yere  
C) İl ve ilçe sınırlarına  
D) Ovaların bulunduğu yerlere

12.



Grafikte Mert'in aldığı ürünler ve fiyatları verilmiştir.

Bu grafikten hareketle aşağıdakilerden hangisine ulaşılabilir?

- A) Mert ihtiyaçları doğrultusunda alışveriş yapmıştır.  
B) Su, giyim ve yoğurt Mert'in istekleri arasındadır.  
C) Mert bilinçli bir tüketici değildir.  
D) Mert'in su, giyim ve yoğurt için ödediği ücret 50 TL dir.



13. Ev mis gibi kokuyordu. Annesi en sevdiği pastayı yapmıştı. Bulaşıkları makineye dizen Selim'in annesi Selim'e:

– Oğlum babanı arar mısın? gelirken yoğurt almayı unutmasın, dedi.

Selim:


– Tamam anne, dedi.

Selim daha sonra ev ödevini yapmak için bilgisayarın başına oturdu.

Bu hikayede Selim ve ailesi aşağıdaki teknolojik aletlerden hangisini kullanmamıştır?



14.



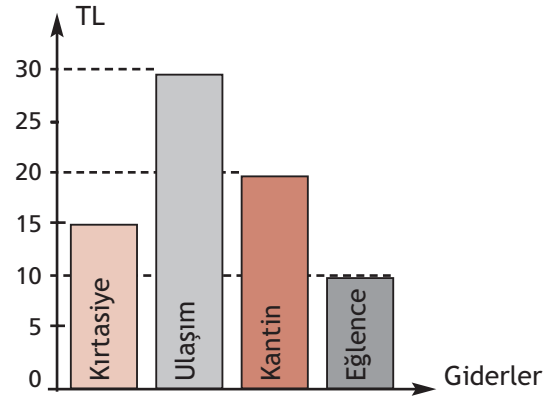
Stephen Hawking

Yaşam zor olsa da mutlaka yapılabilecek ve başarabilecek bir şeyler vardır.

Ünlü fizikçi Stephan Hawking'in bu sözlerinden hareketle bilim insanlarının ortak özelliklerinden hangisine ulaşılabilir?

- A) Meraklı      B) Azimli  
C) Tarafsız      D) Eleştirel

15. Aşağıda Melisa'nın aylık ihtiyaçlarını gösteren gider grafiği verilmiştir.



Babası Melisa'ya ihtiyaçları için ayda 100 TL verdiğine göre Melisa her ay bütçesinden kaç TL artırabilir?

- A) 10      B) 15      C) 20      D) 25

16. Aşağıdaki ham madde - ürün eşleştirmelerinden hangisi yanlıştır?

- A) Ağaç - Kitap  
B) Buğday - Ekmek  
C) Şeker pancarı - Küp şeker  
D) Peynir - Mısır



17.



Görseldeki çocuk aşağıdaki haklarından hangisini kullanmaktadır?

- A) Sağlık
- B) Barınma
- C) Eğitim
- D) İsim

18.



“Türkler esirlik kabul etmeyen bir millettir.”  
K. ATATÜRK

Bu sözden hareketle;

- I. Türk milleti özgürlüğüne düşkündür.
- II. Türk milleti başka bir milletin yönetiminde yaşayamayı kabul etmez.
- III. Türk milleti bilime önem verir.

yargılarından hangilerine ulaşılabilir?

- A) Yalnız II
- B) I ve II
- C) II ve III
- D) I, II ve III

19.



Bu dünya haritasından yararlanarak aşağıdakilerden hangisine ulaşamaz?

- A) Asya en büyük yüzölçümüne sahip kıtadır.
- B) Dünya üzerinde toplam 7 kıta ve 3 okyanus bulunmaktadır.
- C) Okyanusya, Asya'nın güneyindedir.
- D) Brezilya Avrupa'nın en gelişmiş ülkesidir.

20.



(Japon)



(Meksikalı)

Bu görsellerden hareketle toplumlarla ilgili olarak;

- I. Yaşam biçimlerinin farklılığına,
- II. Benzer diller konuşulduğuna,
- III. Kültürlerinin benzer olduğuna,

verilenlerden hangilerine ulaşılabilir?

- A) Yalnız I
- B) I ve III
- C) II ve III
- D) I, II ve III





## SINAVA BAŞLAMADAN ÖNCE AŞAĞIDAKİ UYARILARI MUTLAKA DİKKATLİCE OKUYUNUZ

1. Sınav kimlik bilgilerinizin doğruluğundan emin olunuz.
2. Sınav başladıktan sonra çevrenizdekilerle konuşmayınız.
3. Soruları cevaplamaya istediğiniz sorudan başlayabilirsiniz.
4. Cevaplarınızı cevap anahtarındaki ilgili soru numarasını dikkate alarak uygun bölüme kodlayınız.
5. Değiştirmek istediğiniz cevabı cevap anahtarına kodladığınızdan emin olunuz.
6. Cevabını bilmediğiniz sorular üzerinde fazla zaman kaybetmeden diğer sorulara geçiniz. Zaman kalırsa bu sorulara daha sonra dönebilirsiniz.
7. Sınav puanlarınızın hesaplanmasında sadece doğru cevaplarınız dikkate alınacaktır.
8. Cevap anahtarınızı sınav süresince başkalarının görmeyeceği şekilde önünüzde bulundurunuz.
9. Sınav sırasında sözlük, hesap makinası, cep telefonu ve bilgisayarınızın bu özelliklerini kullanmayınız.
10. Sınav süresince yerinizden ayrılmayınız.

