

1. Aşağıdaki kelimeler alfabetik olarak sıralandığında hangisi baştan ikinci sırada yer alır?

- A) Kardeş
- B) Karınca
- C) Karne
- D) Kalem

3. Aşağıdaki altı çizili sözcüklerden hangisi terim anlamlıdır?

- A) Geçen yaz deniz kenarına kamp kurduk.
- B) Çocuklar okulun bahçesinde huzurla dolaşıyordu.
- C) Ali, arkadaşlarıyla bahçede oynuyordu.
- D) Üç perdelik bir tiyatro sergileyeceğiz.

2. ① konuk → misafir  
② fikir → düşünce  
③ vatan → millet  
④ hediye → armağan

Yukarıdaki kelimeler eş anlamlarıyla eşleştirilmiştir. Hangi eşleştirme yanlıştır?

- A) 1
- B) 2
- C) 3
- D) 4

4. Aşağıdakilerden hangisinde duygusal bir ifade vardır?

- A) Oğlum her gün bir bardak süt içer.
- B) Öğretmenlerini göremeyince çok üzüldü.
- C) Akşamları saatlerce kitap okur.
- D) Şiir okuma yarışmasında birinci oldu.





5. Aşağıdakilerden hangisinde karşılaştırma yapılmıştır?

- A) Covid-19 nedeniyle okullarda uzaktan eğitim başladı.
- B) Hikayedeki kahramanlar yazarın hayallerinden izler taşıyor.
- C) Bugün düne göre daha çok kitap okudum.
- D) İlkbaharda ağaçlar yemyeşil olur.

7. Aşağıdakilerin hangisi kesinlikle hayal ürünüdür?

- A) Çocuklar, bahçedeki kediyi görünce sevindiler.
- B) Kedi önündeki tabaktan süt içiyordu.
- C) Kediyi gören güvercin telaşlandı ve oradan uzaklaştı.
- D) Çocuklar, bahçedeki kediye mama verdiler.

6. Hümeýra, deneme sınavında başarılı olan arkadaşına "....." dedi. Ahmet, parktan ayrılırken arkadaşına "....." dedi. Ali, hasta arkadaşının ziyaretine gittiğinde "....." dedi.

**Yukarıdaki cümlelerde boş bırakılan yere aşağıdaki ifadelerden hangisi getirilemez?**

- A) Hoşça kal
- B) Geçmiş olsun
- C) Tebrik ederim
- D) İyi uykular

8. Tutumluluk, insanların günlük alışkanlığı olmalı. Bence bu alışkanlık küçük yaşlarda başlamalı. Paranın, emeğin, zamanın değerini bilmeliyiz. Değersizdir, küçüktür, miktarı azdır dememeliyiz. Küçük ve önemsiz olarak düşündüğümüz şeyler birikerek önemli bir sayıya ulaşabilir. Atalarımız ..... diye boşuna dememiştir.

**Bu paragrafın akışına göre yukarıdaki boşluğa aşağıdaki atasözlerinden hangisinin getirilmesi en uygundur?**

- A) "Lafla peynir gemisi yürümez."
- B) "Bu günün işini yarına bırakma."
- C) "Ağaç yaşken eğilir."
- D) "Damlaya damlaya göl olur."





9. Aşağıdaki cümlelerin hangisinde boş bırakılan yere "ya da" ifadesi getirilemez?

- A) Yurt dışı seyahatlerinizi iptal edin ..... erteleyin.
- B) Bugün kitap okuruz ..... pikniğe gideriz
- C) Yemekte ayran ..... süt içeceğim.
- D) Elimi yüzümü yıkadım ..... dişlerimi fırçladım.

11. Yaşlı adam, deniz kenarında oturuyordu. Yerde kıpırdayan birşey olduğunu farketti. Onun nesli tükenmekte olan deniz kaplumbağası olduğunu görünce çok heyecanlandı. Korkutmadan ve zarar vermeden hayranlıkla izledi.

Bu metinde aşağıdaki hikaye unsurlarından hangisine yer verilmemiştir?

- A) Kişi (Şahıs)
- B) Olay
- C) Yer
- D) Zaman

10. 1. Elimdeki poşetleri tezgahın üzerine bırakıp birkaç tane yeşillik aldım.
2. Yeni taşındığımız mahallede cuma günleri semt pazarı kuruluyordu.
3. Alışverişi bitirdikten sonra üç poşetle pazardan çıkmaya hazırlanırken bir tezgahta taze yeşillikler gördüm.
4. Bu cuma günü semt pazarına yine uğradım.

Yukarıdaki numaralandırılmış cümlelerle anlamlı bir metin oluşturulduğunda sıralama nasıl olur?

- A) 2 – 4 – 3 – 1
- B) 3 – 4 – 1 – 2
- C) 1 – 2 – 3 – 4
- D) 4 – 2 – 1 – 3

12. "İnce" sözcüğü aşağıdakilerden hangisinde "zarif, görgülü, nezaket sahibi, terbiyeli" anlamında kullanılmıştır?

- A) Köye ev yapmak için ince kum almış.
- B) Evi geçindirmek için ince ince hesaplar yapıyordu.
- C) İnce davranışlarıyla gönülleri kazandı.
- D) İnce bir çubukla toprağı kazıyordu.





13. Aşağıdaki cümlelerin hangisinde sebep-sonuç ilişkisi vardır?

- A) Terliyen soğuk su içtiği için hastalandı.
- B) Dedesini görmek için köye gitti.
- C) Servis arabaları öğrencileri evlerine götürmek için bekliyor.
- D) Bu şiiri ezberlemek için annesinden yardım istedi.

15. Türkiye, bor madeni bakımından oldukça zengindir. Tarihin eski zamanlarından bu yana kullanılmıştır. İlk bakışta beyaz bir kaya parçasına benzemektedir. Çok sert ve ısıya dayanıklı bir yapısı vardır. Sanayinin vazgeçilmez hammaddelerinden biridir. Cam sanayisinde, temizlik ürünlerinde, uzay ve hava araçlarında, tarım vb. alanlarda kullanılmaktadır.

Yukarıdaki paragrafın konusu nedir?

- A) Bor madeni ve kullanım alanları
- B) Sanayinin vazgeçilmez oluşu
- C) Uzay ve hava araçları
- D) Cam, temizlik ve tarım ürünleri

14. Aşağıdaki cümlelerin hangisinde "telaşlanmak" anlamında bir deyim kullanılmıştır?

- A) Yazılıdan yüksek not alacaktım, ümidim boşa çıktı.
- B) Misafirlerin geleceğini duyunca eli ayağına dolaşmış.
- C) Şiir dilimin ucuna gelir gelmez okumaya başladım.
- D) Canım ailem burnumda tütmeğe başladı.

16. Kitap okumak insan için su gibi, ekmek gibi bir ihtiyaçtır. Çünkü insanın düşünce dünyasını geliştirir. Olayları farklı yönlerden değerlendirebilmeyi öğretir. Toplumda kendini iyi yetiştirmiş insanlara ihtiyacımız vardır. Kitap okuma alışkanlığı kazandırmış çocuklar toplumun gelişmesine çok büyük katkı sağlayacaktır.

Bu paragrafın ana fikri aşağıdakilerden hangisidir?

- A) Çocukların en çok sevdiği şey kitap okumaktır.
- B) Çocuklar kitap okuma alışkanlığı kazanıp toplumun ilerlemesine katkı sağlar.
- C) Toplumda kendini yetiştirmiş insanlar vardır.
- D) Kitap okuma oyun oynamaktan daha önemlidir.





17. Aşağıdaki cümlelerin hangisinde "de, da" sözcükten ayrı yazılmalıdır?

- A) Dışarıda çok güzel bir hava vardı.
- B) Ahmet, kitaplarını okulda unutmuş.
- C) Bu kitaplarda çok güzelmış.
- D) Ezberlediğim şiiri okulda bugün okudum.

19. Aşağıdaki cümlelerin hangisinde altı çizili sözcüğün yazımı yanlıştır?

- A) Okulumuzun on altı sınıfı var.
- B) Kedimiz boncuk bu yıl üç yaşına girdi.
- C) Kitapçıdan aldığım "Ömer'in Çocukluğu" adlı eseri okudum.
- D) Bu yıl İngilizceden yüksek not alacağım.

18. *İnsan böyle mi oluyor yaşlanınca?*

*Geçen günlerime mi üzüleyim?*

*Yoksa kaybettiğim sağlığıma mı?*

*Keşke değerini bilseydim yaşlılıktan önce*

*Gençliğin, sağlığın ve güzel günlerin.*

Yukarıdaki şiirin ana duygusu hangisidir?

- A) Ümit
- B) Zengin olma arzusu
- C) Pişmanlık
- D) Hastalık korkusu



20. Vah vah ( ) yazık oldu ( ) Bu konunun üstesinden nasıl geleceğiz ( ) Babamdan yardım isteyelim mi ( )

Bu metinde ayrıca gösterilen yerlere sırasıyla aşağıdaki noktalama işaretlerinden hangileri getirilmelidir?

- A) (!) (.) (?) (.)
- B) (!) (!) (?) (.)
- C) (,) (!) (?) (?)
- D) (!) (.) (?) (?)

*Türkçe testini bitirdiniz.  
Matematik testine geçiniz.*

1.

Ali Bey **A** lira maaş almaktadır. Her ay maaşının **B** lirasını kiraya, **C** lirasını mutfak giderlerine harcamaktadır.

Buna göre harcamalardan sonra Ali Bey'in cebinde ne kadar para kalır?

Bu problemin çözümü aşağıda verilmiştir:

$$1900 + 2400 = 4300$$

$$7000 - 4300 = 2700$$

Bu çözüme göre **A**, **B** ve **C** yerine yazılması gereken sayılar hangi seçenekte doğru verilmiştir?

	<u>A</u>	<u>B</u>	<u>C</u>
A) 7000		4300	2700
B) 1900	2400		7000
C) 7000	2400	1900	
D) 4300	1900	2700	

2. Aşağıdaki çarpma işlemlerinden hangisinin sonucu yanlıştır?

A)  $7 \times 9 = 63$

B)  $8 \times 8 = 64$

C)  $8 \times 7 = 54$

D)  $5 \times 9 = 45$

3.



Yukarıda çuvallarda her yıl toplanan fındık miktarı kg olarak gösterilmiştir. 2020 yılında toplanan fındık, 2018 yılı ile 2019 yılında toplanan fındık miktarının toplamından 300 kg fazladır.

Buna göre 2020 yılında kaç kg fındık toplanmıştır?

A) 8140

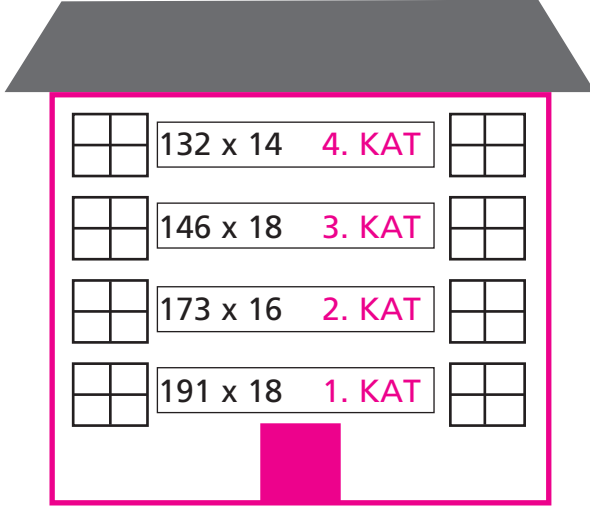
B) 8040

C) 7940

D) 7840



4.



Beyza sonucu 1848 olan işlemin bulunduğu katta oturmaktadır.

Buna göre Beyza kaçınıcı katta oturmaktadır?

- A) 1      B) 2      C) 3      D) 4



5. Ahmet ilk hafta günlük 5 lira harçlık alıp 22 lirasını, ikinci hafta günlük 4 lira harçlık alıp 17 lirasını harcamıştır.

Buna göre Ahmet'in iki haftanın sonunda kaç lirası birikmiştir?

- A) 23      B) 24  
C) 25      D) 26

6. 15 katlı bir binanın her katında 4 daire ve her dairede 16 pencere bulunmaktadır.

Buna göre bu binada toplam kaç pencere bulunmaktadır?

- A) 750      B) 840  
C) 960      D) 1040

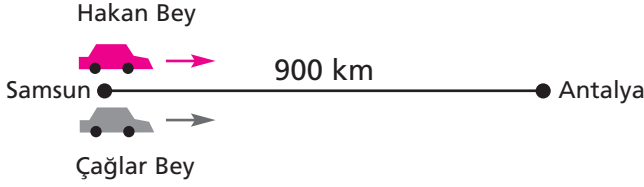
7.  $515\star63 > 5157\blacklozenge2 > 51576\clubsuit$

Yukarıda 6 basamaklı sayıların büyükten küçüğe doğru sıralanışı verilmiştir.

Buna göre  $\star$ ,  $\blacklozenge$  ve  $\clubsuit$  'in basamak değerlerinin toplamı en az kaçtır?

- A) 760      B) 771  
C) 871      D) 880

8. Samsun ile Antalya arası 900 km'dir. Hakan Bey saatte 90 km hızla, Çağlar Bey saatte 100 km hızla Antalya'ya gitmek için aynı anda Samsun'dan yola çıkmıştır.



Buna göre Çağlar Bey, Hakan Bey'den kaç saat önce Antalya'ya ulaşır?

- A) 1      B) 2      C) 3      D) 4

9. Ömer Öğretmen, sınıf kütüphanesindeki 140 kitabın tamamını tatilde okumaları için öğrencilere dağıtacaktır.

Sınıftaki her öğrenciye 5'er kitap verdiği göre sınıf mevcudu kaçtır?

- A) 22      B) 24      C) 26      D) 28

10. Aşağıdaki telefonlarda yapılan çarpma işlemlerinin sonuçlarının son üç basamağı verilmiştir.



Iphone      Samsung      Xiaomi      Huawei

Buna göre "23x100" işlemi hangi telefona ait olabilir?

- A) Iphone  
B) Samsung  
C) Xiaomi  
D) Huawei

11.

$$\begin{array}{r} 38 \blacklozenge * \\ + 7184 \\ \hline 11 \blacktriangle 47 \end{array}$$

olduğuna göre

$$\begin{array}{r} 6 \blacklozenge * \blacktriangle \\ + 5 \blacktriangle * \blacklozenge \\ \hline \end{array}$$


işleminin sonucu kaçtır?

- A) 12666      B) 12656  
C) 11666      D) 11656





12.



Can soldaki hesap makinesinin ekranında görünen işlemi yapmaktadır.

Can'ın kardeşi Lara ise rakamları bilmediği için ağabeyinin bastığı tuşlarla aynı konumda olan tuşlara basarak aynı işlemi sağdaki hesap makinesinde yapıyor.

Buna göre Can'ın işleminin sonucu, Lara'nın işleminin sonucundan kaç eksiktir?

A) 1260

B) 1250


C) 1160

D) 1150

13.



1. Resim



2. Resim

Otomobiliyle Erzurum'dan Trabzon'a giden Zehra'nın arabasının kilometre göstergesi yukarıda verilmiştir. 1. Resim yolculuğa başlamadan önceki, 2. Resim yolculuk bittiğindeki değeri göstermektedir.

Buna göre Zehra'nın Erzurum ile Trabzon arasında gittiği yol kaç kilometredir?

A) 472

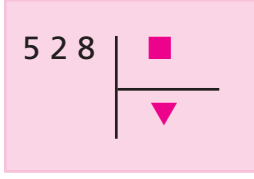
B) 432

C) 378

D) 372



14.



Yukarıdaki bölme işleminde  $\blacktriangledown$  iki basamaklı bir sayıdır.

Buna göre  $\blacksquare$  en fazla kaçtır?

- A) 99    B) 53    C) 52    D) 51

16. İlk terimi 61 olan ve 7 azalarak devam eden sayı örüntüsünün ilk 5 terimi hangi seçenekte doğru olarak verilmiştir?

- A) 61, 68, 75, 82, 89  
 B) 61, 54, 47, 40, 33  
 C) 61, 54, 47, 40, 31  
 D) 61, 54, 46, 39, 32

15.

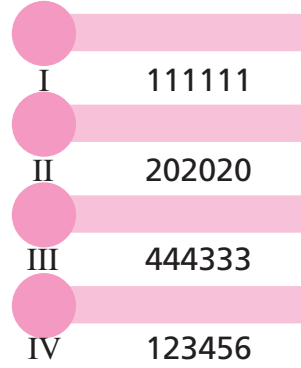
$$36 \times 1 = 12 \times K$$

$$K \times 6 = 9 \times L$$

Yukarıdaki eşitliklere göre  $L$  kaçtır?


- A) 2    B) 3    C) 4    D) 5

17.

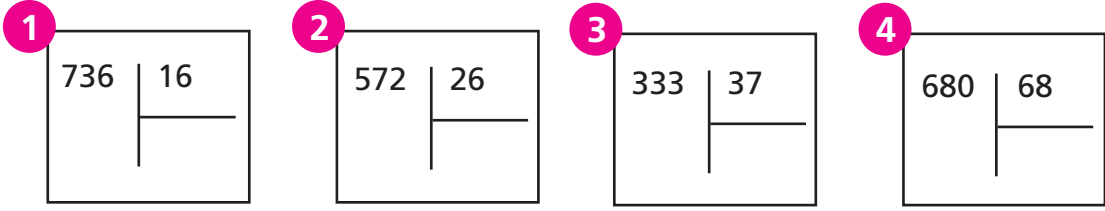


Yukarıda verilen sayılardan hangisinin on binler basamağında bulunan rakam ile yüzler basamağında bulunan rakam yer değiştirirse sayının değeri küçülür?

- A) I    B) II    C) III    D) IV



18.



Yukarıda verilen bölme işlemlerinin hangisinde bölümün basamak sayısı diğerlerinden farklıdır?

A) 1

B) 2

C) 3

D) 4

19.



Yukarıda verilen terazinin dengede olması için aşağıdakilerden hangisi yapılmalıdır?

A) Sağ kefeye bir tane ▼ konulmalıdır.

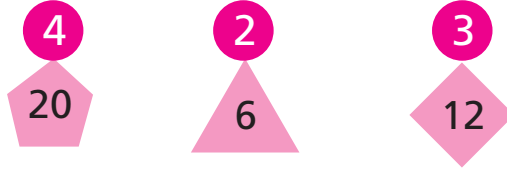
B) Sol kefeye bir tane ■, sağ kefeye bir tane ▼ konulmalıdır.

C) Sol kefeye bir tane ●, sağ kefeye iki tane ▼ konulmalıdır.

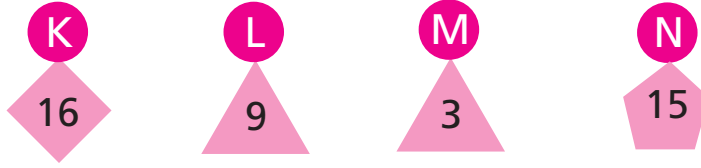
D) Sol kefeye bir tane ● konulmalıdır.



20. Dairelerin içinde yazan sayılarla çokgenlerin içinde yazan sayılar arasında bir ilişki vardır.



Bu ilişkinin benzeri aşağıdaki şekillerde de kullanılacaktır.



Buna göre KLMN dört basamaklı sayısının okunuşu aşağıdakilerden hangisidir?

- A) Dört bin üç yüz on üç
- B) Dört bin üç yüz otuz üç
- C) Dört bin üç yüz doksan üç
- D) Dört bin üç yüz otuz beş

*Matematik testini bitirdiniz.  
Din Kültürü ve Ahlak Bilgisi  
testine geçiniz.*



1. Öğretmenimiz, sahip olduğumuz nimetlerin farkında olmamız için "şükür günlüğü" tutmamızı istedi. Bu günlüğü tutarken Allah'a teşekkür edecek ne kadar çok şeye sahip olduğumu fark ettim. Ayrıca bir şey daha fark ettim. Allah'a teşekkür etmek insanın mutluluğunu artırıyormuş.

Bu paragrafta geçen Allah'a teşekkür ifadesiyle aynı anlama gelen dini ifade aşağıdaki hangisidir?

- A) Bismillah
- B) Estağfirullah
- C) Elhamdülillah
- D) Subhanallah

2. Allah; kainatın ve bütün varlıkların yaratıcısı olan tek ve yüce varlığın özel ismidir.

Aşağıdakilerden hangisi Allah (c.c.)'a ait bir özellik değildir?

- A) Allah'ın da bir yaratıcısı vardır.
- B) Evrenin ve bütün varlıkların tek yaratıcısıdır.
- C) Her şeyi işitendir.
- D) Her şeyi görendir.

3.

"Siz, iman etmedikçe cennete giremezsiniz; birbirinizi sevmedikçe de iman etmiş olamazsınız. Yaptığınız zaman birbirinizi seveceğiniz bir şey söyleyeyim mi? Aranızda ..... yayınız."  
(Müslim, İman 93)

Bu hadiste boş bırakılan yere aşağıdakilerden hangisi gelmelidir?

- A) Besmeleyi
- B) Selamı
- C) İmanı
- D) Bilgiyi

4. İnsanlar günahsız, hata yapmayan varlıklar değildir. Zaman zaman hem Allah'a hem de diğer insanlara karşı hata yapabilirler. Yaptıkları hatalardan sonra bir daha yapmamak üzere Allah'tan özür dilemelidirler. Allah'ın affedici ve bağışlayıcı olduğunu unutmamalıdır.

İnsanların hata yaptıktan sonra Allah'tan özür dilemesine ne denir?

- A) Sevap
- B) Selam
- C) Tekbir
- D) Tövbe

5. "Tekbir" kavramı günlük hayatımızda kullandığımız dini ifadelerden biridir.

**Tekbir ile ilgili aşağıdaki bilgilerden hangisi yanlıştır?**

- A) Peygamberimizi anmak için yapılan selam ve dua ifadelerinden biridir.  
 B) "Allahu ekber" tekbir ifadesidir, "Allah en büyüktür" anlamına gelir.  
 C) Ezanın sözlerinde tekbir ifadesi vardır.  
 D) Allah'ın yüceliğini ve büyüklüğünü ifade etmek için tekbir getiririz.

7. 1. Allah tarafından seçilmişlerdir.  
 2. Allah'tan aldıkları mesajları insanlara iletirler.  
 3. Allah'tan aldıkları mesajların bazılarını değiştirerek insanlara bildirirler.

**Peygamberlerle ilgili yukarıda verilen bilgilerden hangileri doğrudur?**

- A) 1 ve 2  
 B) 1 ve 3  
 C) 2 ve 3  
 D) 1, 2 ve 3

6. Aşağıdakilerden hangisi dinimizin günah saydığı davranışlardan biridir?

- A) Arabalara ve yayalara zarar vereceğini düşünerek yoldaki cam kırıklarını kaldırmak.  
 B) Komşumuzun poşetlerini taşımasına yardım ederken izinsiz olarak hoşumuza giden birşeyleri poşetten almak.  
 C) Arkadaşımız yokken onun güzel davranışları hakkında başkasıyla konuşmak.  
 D) Apartmanda gördüğümüz komşularımıza güler yüzle selam vermek.

8. Günlük hayatımızda insanlarla iletişimimizi sağlarken pek çok kelime, ifade ve deyim kullanırız. Kullandığımız bu kelime ve ifadelerin bazılarının kaynağı dindir. Dilimize ve kültürümüze din sayesinde yerleşmiştir.

**Aşağıdaki kelimelerden hangisi dilimize dinin etkisiyle yerleşen bir kavram değildir?**

- A) Allah  
 B) Cennet  
 C) Melek  
 D) Bayrak

9. Allah (c.c) bazı söz ve davranışların yapılmasını kesin olarak yasaklamıştır. Bu söz ve davranışları yapmak haramdır.

Aşağıdakilerden hangisi haram olan davranışlardan değildir?

- A) Kibirli olmak
- B) Yalan söylemek
- C) Cömert olmak
- D) Hırsızlık yapmak

11.

“... Allah, müjdeleyici ve uyarıcı olarak peygamberleri gönderdi. İnsanlar arasında, anlaşmazlığa düştükleri hususlarda hüküm vermeleri için, onlarla beraber hak yolu gösteren kitapları da gönderdi...”  
(Bakara suresi, 213. Ayet)

Bu ayet aşağıdaki iman esaslarından hangisi ile kesinlikle ilgili değildir?

- A) Allah’a iman
- B) Peygamberlere iman
- C) Meleklerle iman
- D) Kitaplara iman

10. Subhaneke duası, tekbir ile namaza başlarken ilk olarak okunan ve Allah’ın yüceliğinin anlatıldığı, övüldüğü duadır. Bu dua cenaze namazlarında da okunur. Subhaneke duası peygamberimizin öğrettiği bir duadır.

Bu paragraftan aşağıdaki bilgilerden hangisi çıkarılamaz?

- A) Bayram namazlarında “ve celle senaük” bölümüyle beraber okunur.
- B) Peygamberin öğrettiği bir duadır.
- C) Namazların başında tekbirden hemen sonra okunur.
- D) Allah’ın yüceliğinden bahsedilen, Allah’ın övüldüğü bir duadır.

12. Kelime-i tevhid ve kelime-i şahadet İslam dininin özüdür. Her ikisi de Allah’ın bir olduğundan ve Hz. Muhammed (s.a.v.)’in O’nun peygamberi olduğundan bahseder. Farklı olarak kelime-i şahadette peygamberimizin bir “kul” yani bir insan olduğuna vurgu yapılmıştır.

Kelime-i şahadette peygamberimizin Allah’ın kulu olduğunu vurgulayan bu kelime aşağıdakilerden hangisidir?

- A) Lailahe illallah
- B) Muhammeden
- C) Abdühû
- D) Ve Resuluh

13. 1 Farz bir ibadettir.  
2 Zengin olan Müslümanlar yapmak zorundadır.  
3 Ömürde bir kez yapılması yeterlidir.  
4 Toplumsal yardımlaşma duygusunu geliştirir.

Numaralandırılmış bu bilgilerden hangisi zekat ibadeti ile ilgili değildir?

- A) 1                      B) 2  
C) 3                      D) 4

15. "... namaz, insanı her türlü kötülükten ve hayasızlıktan alıkoyar..."  
(Ankebut suresi, 45. Ayet)

Bu ayet namazla ilgili aşağıdaki sorulardan hangisinin cevabı olabilir?

- A) Namaz nasıl kılınır?  
B) Namazın insan davranışlarına etkisi nedir?  
C) Namaz hangi vakitlerde kılınır?  
D) Namaz kimlere farzdır?

14. Aşağıdakilerden hangisi İslam'ın beş temel şartından biri değildir?

- A) Namaz kılmak  
B) Oruç tutmak  
C) Hacca gitmek  
D) Kurban kesmek

16. Kur'an-ı Kerim ile ilgili aşağıdakilerden hangisi yanlıştır?

- A) Allah'ın gönderdiği mesajlar ve peygamberimizin sözlerinden oluşur.  
B) Mesajlar olay ve durumlara göre yirmi üç yılda parça parça inmiştir.  
C) Son peygamber Hz. Muhammed'e gönderilen son ilahi kitaptır.  
D) İndirildiği toplumun dili Arapça olduğundan, Kur'an-ı Kerim'in dili Arapçadır.



17. Kur'an-ı Kerim'in yirmi sayfadan oluşan her bir bölümüne ..... denir. Kur'an-ı Kerim'de ..... vardır.

Bu paragrafta boş bırakılan yerlere sırasıyla aşağıdakilerden hangisi gelmelidir?

- A) Sure, 20 Sure
- B) Sure, 30 Sure
- C) Cüz, 20 Cüz
- D) Cüz, 30 Cüz

18. "Allah'ın (c.c.) bilgisi ve dilemesiyle, her şeyin bir ölçüye göre gerçekleştiğine iman etmek."

Bu açıklama aşağıdaki iman esaslarının hangisi ile ilgilidir?

- A) Ahirete iman
- B) Kaza ve kadere iman
- C) Meleklerle iman
- D) Peygamberlere iman

19.

"Oruç bir kalkandır; sakın bir kimse oruçluyken cahillik edip kötü söz söylemesin. Birisi sataşır veya kötü söz söyleyecek olursa "Ben oruçluyum" desin."

(Buhari, Savm, 9)

Aşağıdakilerden hangisi bu hadisten çıkarılacak bir sonuç değildir?

- A) Oruç insanı kötü söz ve kavga gibi kötülüklerden korur.
- B) Oruçluyken kötü söz söylememeliyiz.
- C) Oruçluyken bizimle kavga etmek isteyenlere oruçlu olduğumuzu hatırlatmalı kavga etmemeliyiz.
- D) Oruçluyken kötü söz söyler kavga edersek orucumuz bozulur, yerine oruç tutmalıyız.

20. Kur'an-ı Kerim'in en uzun suresi aşağıdakilerden hangisidir?

- A) Yasin suresi
- B) Fatıha suresi
- C) Bakara suresi
- D) Kevser suresi

*Din Kültürü ve Ahlak Bilgisi  
testini bitirdiniz.  
Fen Bilimleri testine geçiniz.*

1. Aşağıdakilerden hangisi kütle ölçü birimi ile satılmaz?

A)



Portakal

B)



Un

C)



Domates

D)



Su

2.

Çok yer kaplayan maddelerin kütleleri her zaman daha büyüktür.

Sıvı maddelerin hacmini dereceli silindir ile ölçeriz.

Şekli düzgün olmayan katı maddelerin hacmi ölçülemez.

D

Y

Yukarıdaki tabloyu doğru şekilde oluşturduğumuzda hangisine ulaşırsınız?

A)

	✓
✓	
	✓

B)

✓	
	✓
✓	

C)

	✓
✓	
✓	

D)

	✓
	✓
✓	

3. Aşağıdaki öğrencilerden hangisinin verdiği bilgi doğrudur?

A)



Maddelerin suda yüzmesi hacmine bağlıdır.

B)



Maddelerin suda yüzmesi şekline bağlıdır.

C)



Maddelerin suda yüzmesi kütlelerine bağlıdır.

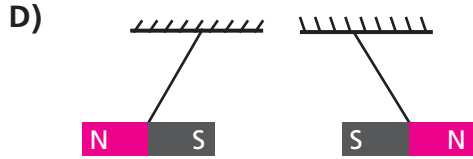
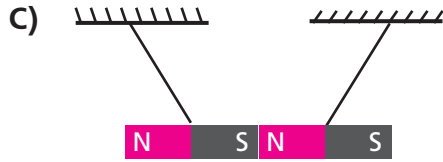
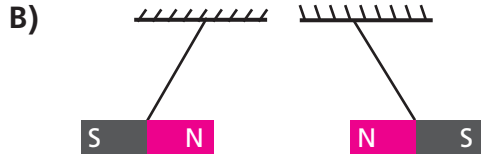
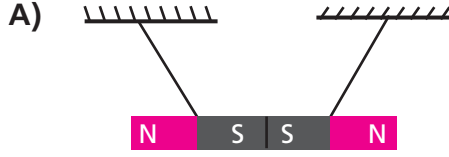
D)



Maddelerin suda yüzmesi yoğunluğuna bağlıdır.




4. Aşağıdaki görsellerde verilen mıknatıs konumlarından hangisi yanlıştır?



5. Besinler, yapılarında en fazla bulunan besin içeriğine göre gruplandırılır. Örneğin balıkta protein diğer içeriklerden daha fazla olduğu için "Balık, protein içerir." denir. Protein içerikli besinlerin vücuttaki görevlerinden biri yaraların iyileşmesine yardımcı olmaktır.

Bu bilgiye göre vücudumuzda oluşan bir yaranın iyileşmesine yardımcı olmak için aşağıda verilen besinlerden hangisinin tüketilmesi uygundur?



Makarna



Et



Yaş pasta



Ekmek

6. Gıda maddelerini tüketirken aşağıdakilerden hangisini yapmamız doğru olmaz?

- A) Gıda maddelerinin taze olmasına özen göstermeliyiz.
- B) Dondurulmuş gıdaları satın aldıktan sonra tekrar dondurmeliyiz.
- C) Sebze ve meyveleri yıkayarak tüketmeliyiz.
- D) Sebze ve meyveleri tazeyken yemeliyiz.



7. Alkol kullanarak trafiğe çıkan insanlar trafik kazalarına neden olurlar.

Aşağıdakilerden hangisi bunun sebeplerinden biri değildir?

- A) Bilinç ve denge kaybı  
B) Görme bozukluğu  
C) Reflekslerin yavaşlaması  
D) Konuşma bozukluğu

9.



Arda

Obezite, şeker, kalp-damar hastalıkları, yüksek tansiyon gibi hastalıkların tedavisinde etkilidir. Düzenli yapmak önemlidir.

Arda'nın aşağıdakilerden hangisi ile ilgili bilgi vermiştir?

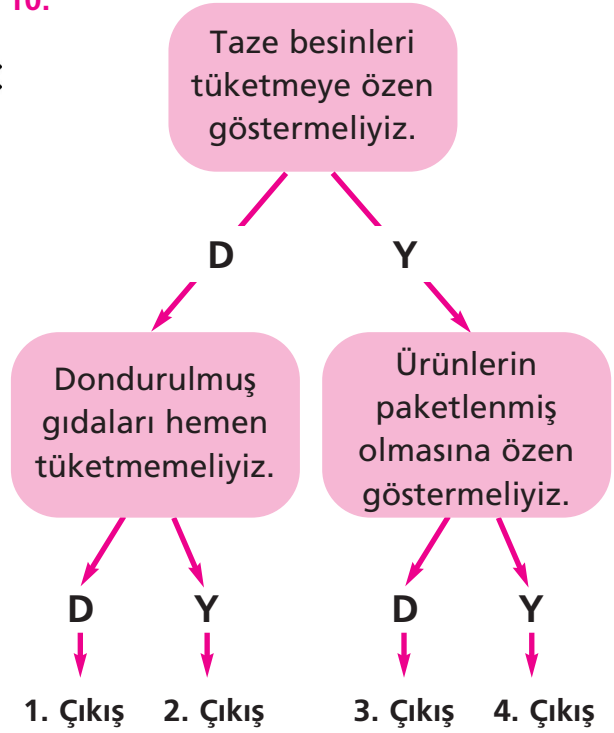
- A) Baklava yemek  
B) Duş almak  
C) Kitap okumak  
D) Spor yapmak

8. Sigara içen kişilerin yakınında bulunanlar da dumandan etkilenirler. Bu kişilere ..... denir.

Yukarıdaki ifadede boş bırakılan yeri aşağıdakilerden hangisi yazılmalıdır?

- A) pasif içici  
B) içici  
C) bağımlı  
D) bağıllık

10.







Yukarıdaki diyagramda verilen ifadeler doğruysa "D", yanlışsa "Y" okları takip edildiğinde hangi çıkışa ulaşılır?

- A) 1. çıkış B) 2. çıkış  
C) 3. çıkış D) 4. çıkış



11. Kutup ayıları iri bir vücut yapısına sahiptir.

Yukarıdaki durumun sebebini hangi öğrenci doğru açıklamıştır?

- A)  Daha hızlı koşabilmek için
- B)  Vücut dirençlerini artırmak için
- C)  Kış uykusuna yatabilmek için
- D)  Soğuğa karşı korunmak amacı ile yağ depoladıkları için

12. Masa tenisi oynarken gelen topa raketle vurduğunuzda topun ..... değişir.

Noktalı yere aşağıdakilerden hangisi gelmelidir?





- A) Büyüklüğü
- B) Şekli
- C) Biçimi
- D) Yönü

13.



Saçlarım sağlıksız olduğu için doktorum proteince zengin besinler tüketmemi söyledi.





Buna göre, Ayşe aşağıdaki besinlerden hangisini tüketmelidir?

- A)  Nohut
- B)  Karpuz
- C)  Mısır
- D)  Zeytin

14.

Süt	Bal	Ceviz
Ekmek	Peynir	Ayçiçek yağı

Yukarıdaki tabloda hayvansal besinlerin bulunduğu kutular kırmızıya, bitkisel besinlerin bulunduğu kutular siyaha boyandığında aşağıdakilerden hangisi elde edilir?

- A)  B) 
- C)  D) 

15.  Güneş etrafında dönme hareketi sonucu gece-gündüz oluşur.
- Dünya'nın Güneş etrafında bir tam dönüşü 1 ay sürer
- Dünyamız'ın kendi etrafında dönme hareketi sonucu mevsimler oluşur.

Yukarıdaki ifadelerin başına doğru ise "D", yanlış ise "Y" yazılırsa aşağıdaki görüntülerden hangisi elde edilir?

- A)  Y  D  D  D
- B)  Y  D  Y
- C)  D  D  Y
- D)  Y  Y  Y

17. Mineraller aşağıdakilerden hangisinin yapısında bulunmaz?



Toprak



Besin



Hava

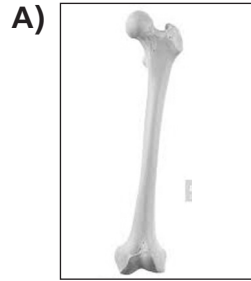


Maden Suyu

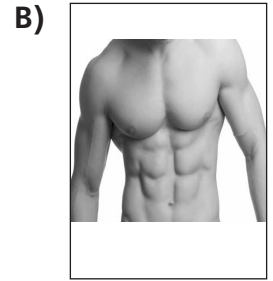
16. Dünya'nın kendi eksenini etrafındaki dönüşünü fark edememe sebebimiz aşağıdakilerden hangisidir?

- A) Dünya'nın atmosferi ile birlikte dönmesi
- B) Dünya'nın düz olması
- C) Dünya'nın aynı zamanda Güneş etrafında dönüyor olması
- D) Dünya'nın hayali bir eksenini olması

18. Aşağıdakilerden hangisi fosil oluşturmaz?



Kemik



Kas



Diş

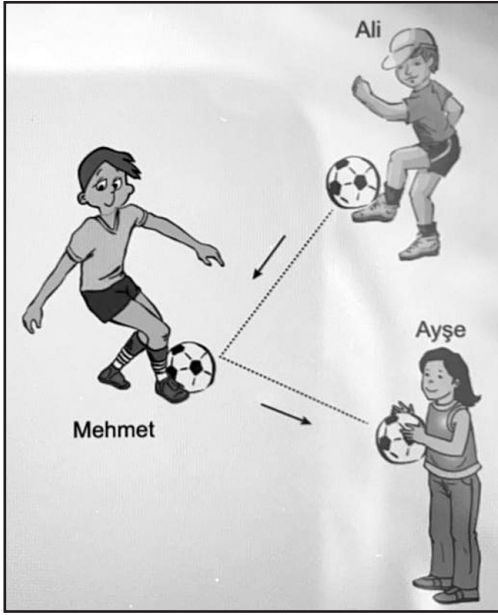


Kafatası



19. Kuvvet cisimleri durdurabilir, hareket ettirebilir, ve yönünü değiştirebilir.

Şekilde Ali, durmakta olan topa ayağı ile vuruyor. Mehmet, Ali'den gelen topu Ayşe'ye doğru yönlendiriyor. Ayşe ise topu eliyle tutuyor.



Buna göre şekilde verilen olayda kuvvetin cisimler üzerindeki hangi etkileri sırayla gözlemlenmektedir?

- A) Durdurma, hızlandırma, yön değiştirme  
B) Hareket ettirme, yön değiştirme, durdurma  
C) Yön değiştirme, hareket ettirme, durdurma  
D) Hızlandırma, durdurma, yön değiştirme.

20. Tabloda verilen hareket durumları uygun örneklerle eşleştirilecektir.

Hareket Durumları	Örnekler
● Yön değiştirme	● Hareket halindeki otomobilin tekeri
● Durma	● Köşeyi dönen kamyon
● Sallanma	● Saat sarkacının hareketi
● Dönme	

Buna göre hangi hareket durumu, verilen örneklerle eşleştirilemez?

- A) Yön değiştirme  
B) Durma  
C) Sallanma  
D) Dönme



Fen Bilimleri testini bitirdiniz.  
Sosyal Bilgiler testine geçiniz.

1. Türkiye Cumhuriyeti kimlik kartında aşağıdakilerden hangisi yer alır?

- A) Kişinin imzası
- B) Telefon numarası
- C) İlgili alanları
- D) Yetenekleri

3. Mevlana'ya ait aşağıdaki sözlerden hangisi onun, başkalarının duygu ve düşüncelerine olan saygısını göstermektedir?

- A) Hoşgörülükte deniz gibi ol.
- B) İnsanlık, bilimle yükselir.
- C) İyi dostu olanın aynaya ihtiyacı yoktur.
- D) Canında bir can var, o canı ara.

2. **Deniz:** Sosyal Bilgiler dersini çok severim. Herkesle rahat iletişim kurarım. Müzik dinlemeyi severim.

**Can:** Spor yapmayı ve arkadaşlarımla oynamayı çok severim.

**Efe:** Matematik dersini çok severim. Bilgisayarla oynamaktan çok hoşlanırım.

**Çocukların verdiği bilgilere göre aşağıdakilerden hangisi söylenebilir?**

- A) Deniz ile Efe'nin fiziksel özellikleri aynıdır.
- B) Can ile Efe'nin düşünce yapıları aynıdır.
- C) Deniz, Can ve Efe'nin ilgi alanları farklıdır.
- D) Deniz ile Can'ın sosyal faaliyetleri aynıdır.


4. Metin, dedesiyle yaptığı sözlü tarih görüşmesinde, dedesine çeşitli sorular yöneltti. Aldığı cevaplardan bir paragraf yazdı:

Dedesinin ailesi Konya'dan İstanbul'a göç etmişti. Dedesi 1890'da Beyoğlu'nda iki katlı bir evde doğmuştu. Savaş yılları olduğundan insanlar büyük sıkıntıdaydı. Yiyecek, giyecek bulmak zordu.

**Buna göre Metin dedesine, aşağıdaki sorulardan hangisini sormamıştır?**

- A) Nerede doğdun?
- B) Hangi savaş yaşıyordun?
- C) İnsanlar nasıl yaşıyordu?
- D) Ailen İstanbullu muydu?





5. Aşağıdaki ifadelerden hangisinde kültürümüze ait bir unsura yer verilmemiştir?

- A) Anneannemden kalan telkâri kolyeyi özenle saklıyorum.
- B) Annemin bana küçükken anlattığı Külkedisi masalını ben de kardeşime anlatıyorum.
- C) Ablamın kına gecesine bütün arkadaşlarımı davet ettim.
- D) Halk oyunları kursunda zeybek oynamayı öğrendim.

6. Hava olayı Görülen toplam gün

Yağışlı	8
Güneşli	5
Bulutlu	10
Sisli	2
Şiddetli rüzgar	5

Elif, bir ay boyunca hava olaylarını gözlemleyerek bir tablo yapmıştır.

Tabloya göre aşağıdakilerden hangisine ulaşamaz?

- A) Bulutlu gün sayısı, güneşli gün sayısından fazladır.
- B) Sisli gün sayısı en azdır.
- C) Güneşli günlerde şiddetli rüzgar da esmiştir.
- D) 8 gün yağmur yağmıştır.

7. İnal: Şalvarları, yemenileri sadece etnografya müzelerinde görüyoruz şimdi. Bu kültür unsurları da aynı diğerleri gibi yıllar içinde değişiyor ve artık kullanılmıyor.

İnal'ın verdiği bilgiye göre aşağıdakilerden hangisi söylenemez?

- A) Giyim kültürel bir unsurdur.
- B) Etnografya müzelerinde eski eşyalar sergilenir.
- C) Teknolojinin artması giyimdeki değişimi etkilememiştir.
- D) Eskiden giyilen bazı giysiler günümüzde kullanılmamaktadır.

8. Doğa: Spor yapmak en büyük hobim.

Melis: Kitap okumaktan çok zevk alıyorum.

Umut: Kardeşimin odayı dağıtmasına sinir oluyorum.

Anıl: Sınıfın en uzun boylu öğrenciyim.

Çocuklardan hangisi fiziksel özelliği ile ilgili bilgi vermiştir?

- A) Doğa
- B) Melis
- C) Umut
- D) Anıl



9. I. Samsun  
II. Amasya  
III. Sivas  
IV. Erzurum

Yukarıda Mustafa Kemal'in Milli Mücadele için hazırlıklar yaptığı şehirler verilmiştir.

Buna göre hangi ikisi yer değiştirirse kronolojik sıralama doğru olur?

- A) I ve II      B) II ve III  
C) II ve IV      D) III ve IV

10.



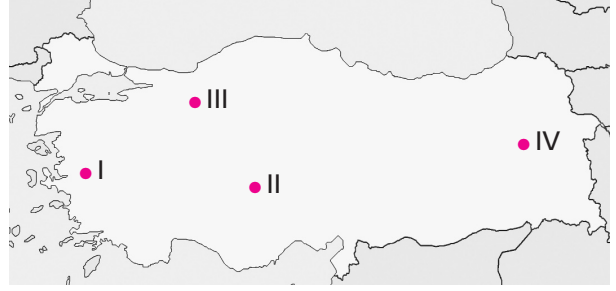
Verilen resimle ilgili,

- I. Ülkemizde tanınmış karakterlerdir.  
II. Halkı eğlendirmeye yönelik hazırlanmıştır.  
III. Geleneksel seyirlik oyunlar arasındadır.

ifadelerinden hangileri söylenebilir?

- A) Yalnız III      B) I ve II  
C) I ve III      D) I, II ve III

11. Türkiye bir deprem ülkesidir. Özellikle ana fay hatları olan Kuzey Anadolu, Doğu Anadolu ve Batı Anadolu 1. Derecede deprem bölgeleridir. Türkiye yüzölçümünün yarısından çoğu bu deprem kuşağı içindedir.




Buna göre, haritada işaretli yerlerin hangisi deprem bakımından en az risklidir?

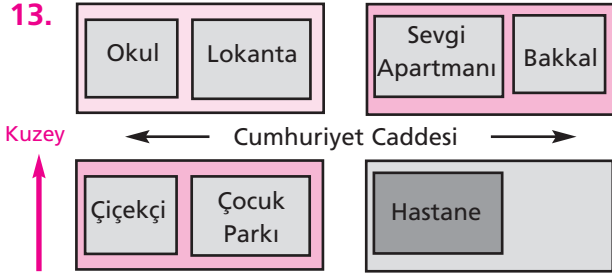
- A) I      B) II      C) III      D) IV

12. Aşağıdakilerden hangisi Doğu Cephesi Komutanı olarak Ermeniler'e karşı savaşmış, Kars ve Ardahan'ı kurtarmıştır?

- A) İsmet İnönü  
B) Kazım Karabekir  
C) Mustafa Kemal  
D) Fevzi Çakmak



13.



Krokiye göre aşağıdakilerden hangisi söylenemez?

- A) Sevgi Apartmanı, lokantanın batısındadır.
- B) Okul, çiçekçinin kuzeyindedir.
- C) Hastane, lokantanın güneydoğusundadır.
- D) Bakkal, caddenin kuzeyindedir.

14.



Elif

Sabahın erken saatlerinde Güneş'e arkamı dönerek kollarımı açtım. Okula gitmek için sol tarafa doğru yürüdüm.

Elif bulunduğu konumdan hangi yöne giderse okula ulaşır?

- A) Kuzey
- B) Doğu
- C) Güney
- D) Batı

15.



Haritada işaretli illerin Amasya'ya göre yönleri aşağıdakilerden hangisinde doğru verilmiştir?

- | <u>Burdur</u> | <u>Bayburt</u> |
|---------------|----------------|
| A) Batı       | Güneydoğu      |
| B) Güneybatı  | Doğu           |
| C) Batı       | Doğu           |
| D) Güneybatı  | Güneydoğu      |



16.

İnsan acı duyabiliyorsa canlıdır. Başkasının acısını duyabiliyorsa insandır.

Tolstoy

En büyük insan kendini en çok sayıda insanın yerine koyabilir.

Jane Adams

Damdan düşenin halini damdan düşen anlar.

Nasreddin Hoca

Düşünmek ruhun kendine konuşmasıdır.

Platon

Yukarıdaki kartlarda verilen hangi isme ait söz empati ile ilgili değildir?

- A) Tolstoy
- B) Jane Adams
- C) Nasreddin Hoca
- D) Platon

17. Köyümüz tam anlamıyla yaşanacak bir yer. Çünkü tarım yapabileceğimiz verimli toprakları, istediğimiz zaman başucunda dinlenebileceğimiz göl-leri, Osmanlı döneminden kalma ta-rihi camileri var. Bu özellikleri köyümüzü diğer köylerden farklı yapıyor.

Ömer'in bu anlatımında altı çizili bölümler sırasıyla hangi unsurlarla ilgilidir?

1	2	3
A) Doğal	Beşeri	Doğal
B) Beşeri	Beşeri	Doğal
C) Doğal	Doğal	Beşeri
D) Beşeri	Doğal	Doğal

18. Kırşehir'de 1938'de doğan Neşet Ertaş, Çiçekdağı'ndan Türkiye'ye açılan bir halk ozanıdır. Çocukluğu köyde geçen Neşet Ertaş, ilkokulda keman ve bağlama çalmaya başlamıştır. Abdallık kültürünün önemli temsilcilerindendir. UNESCO, Neşet Ertaş'ı "Ulusal yaşayan insan hazinesi" olarak kabul etmiştir. Eserleri ders olarak okutulmuştur.



Verilen bilgilere göre Neşet Ertaş'ın aşağıdaki alanlardan hangisinde yetenekli olduğu söylenebilir?

- A) Yazılım      B) Resim  
C) Spor      D) Müzik

19. Antep • • Ali Saip Bey  
Urfa • • Şahin Bey  
Maraş • • Sütçü İmam

Yukarıda Milli Mücadele'de savaştığımız bazı iller ve bu illerin kahramanları karışık olarak verilmiştir.

Buna göre doğru eşleştirme hangi seçenekteki gibi olmalıdır?

- A) B)   
C) D)

20. Hangi öğrencinin deprem anındaki davranışı yanlıştır?

- A) Sarsıntı başlar başlamaz balkona çıkarım.
- B) Cam kenarı ve merdiven boşluklarından uzak dururum.
- C) Sakin olmaya çalışırım, paniğe kapılmam.
- D) Güvenli yerlerde kollarımla başımı koruyarak çömelirim.

*Sınavınız bitmiştir.  
Cevaplarınızı kontrol ediniz.*